

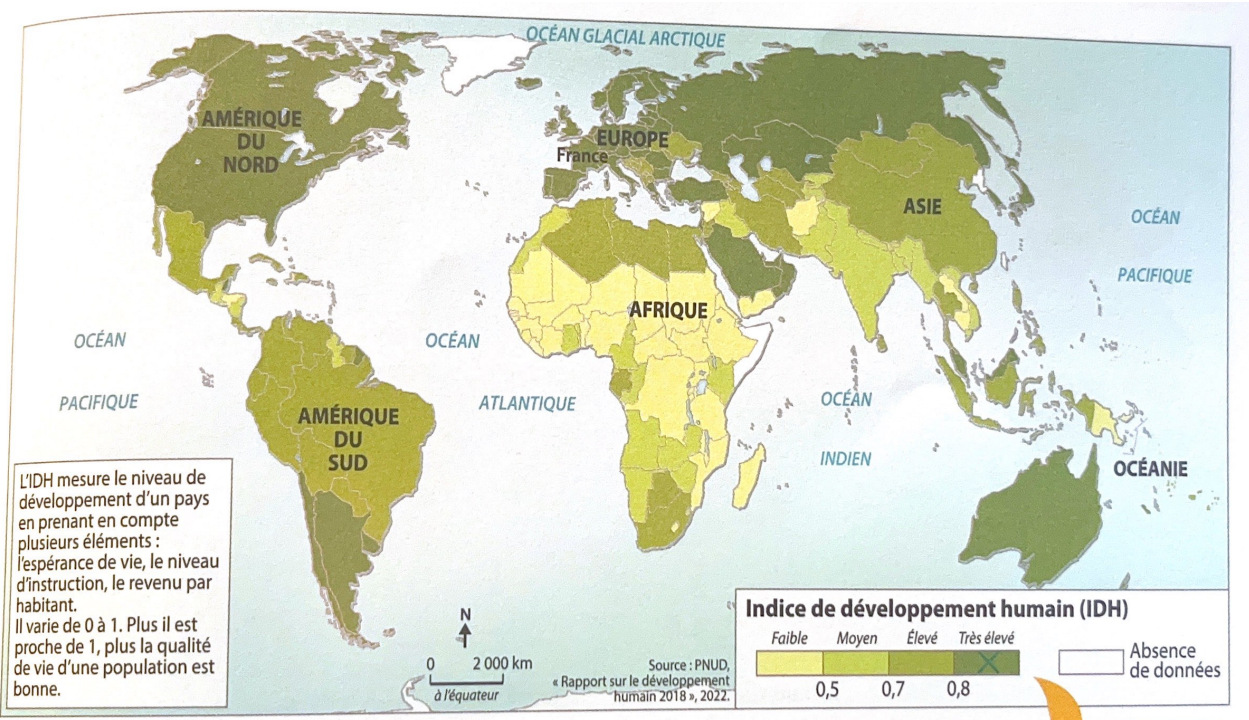
SE REPÉRER DANS LE TEMPS ET DANS L'ESPACE

Thème 2 - Habiter une métropole

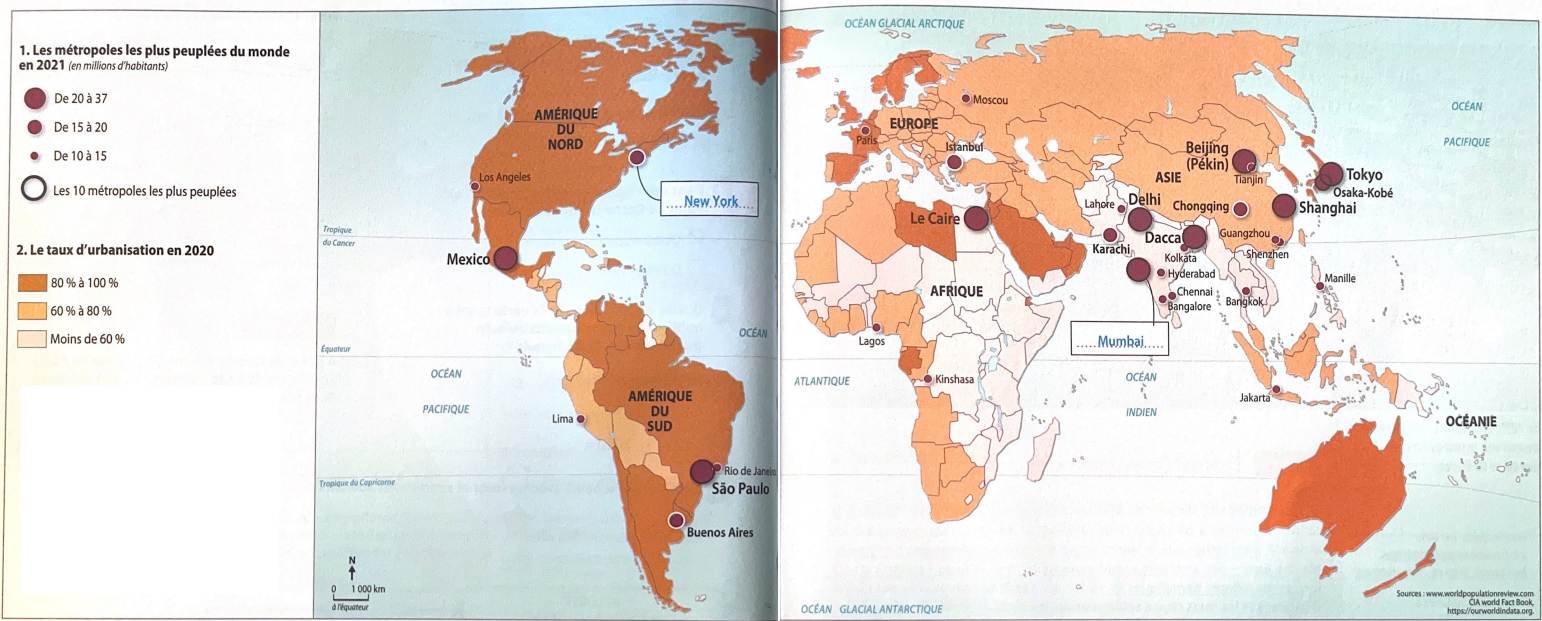
Le niveau de développement

Questions :

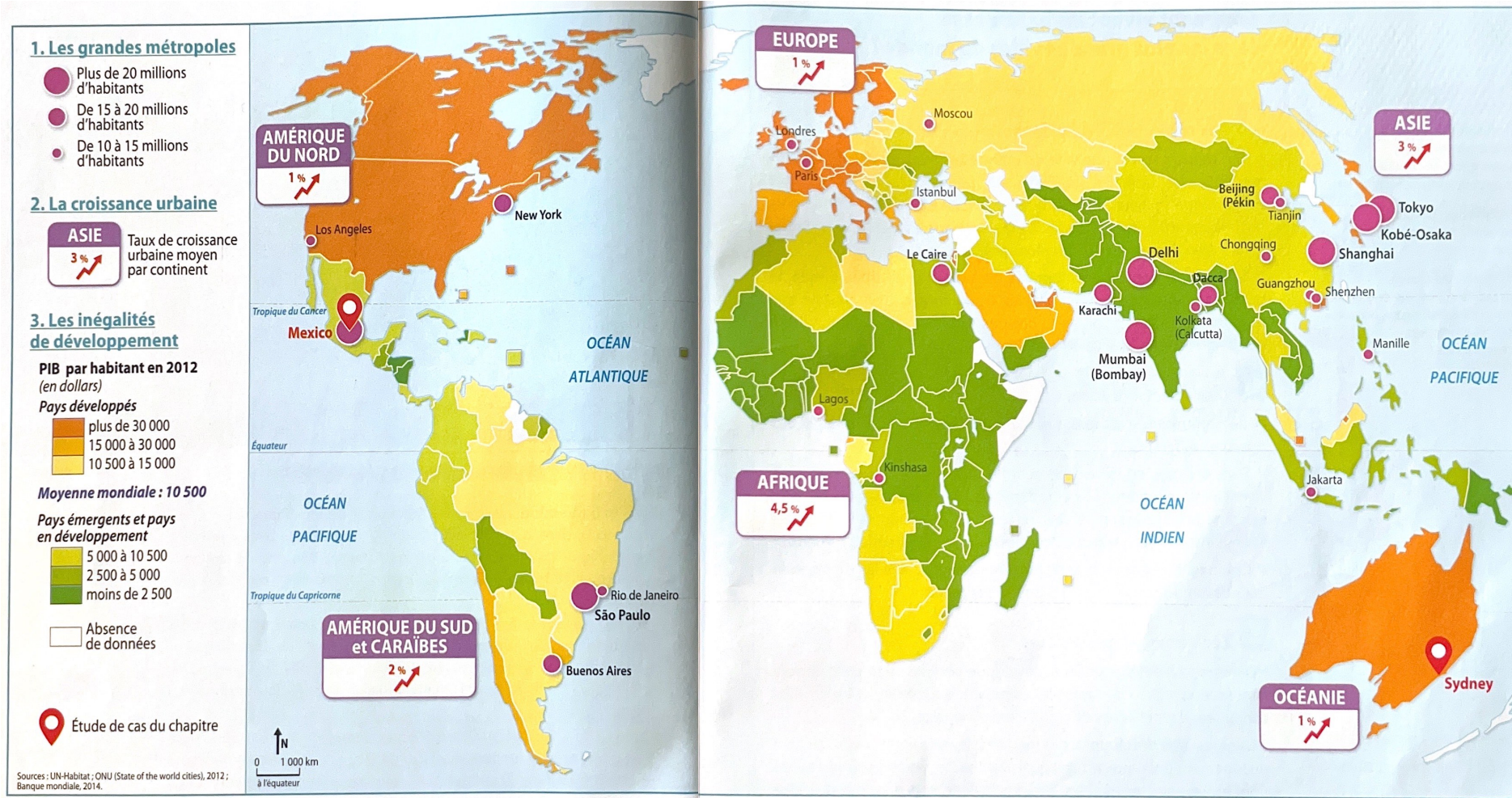
- 1. Quels sont les 3 éléments pris en compte dans le calcul de l'IDH ? \_\_\_\_\_
- 2. Quelle valeur de l'IDH montre un niveau de vie élevé ? \_\_\_\_\_
- 3. Quelle valeur de l'IDH montre un niveau de vie faible ? \_\_\_\_\_
- 4. Quel est l'IDH de la France ? \_\_\_\_\_
- 5. Quel est le continent où l'IDH est le plus faible ? \_\_\_\_\_



Doc. Les grandes métropoles et l'urbanisation du monde







## Questions :

1. Citer 3 villes de plus de 20 millions d'habitants. \_\_\_\_\_
2. Quel continent possède la croissance urbaine la plus élevée ? \_\_\_\_\_
3. Citer les deux catégories de pays indiquées dans la légende. \_\_\_\_\_

## Bilan et réflexion : utiliser toutes les cartes

4. Citer des métropoles mondiales où le niveau de vie est élevé. \_\_\_\_\_
5. Citer des métropoles mondiales où le niveau de vie est faible. \_\_\_\_\_
6. Comparer la croissance urbaine de l'Afrique et des autres continents. A ton avis, comment cela peut-il s'expliquer ? \_\_\_\_\_