

Evaluation 6ème : Le monde des cités grecques

A/ Réponds aux questions suivantes à l'aide du texte 1 : Attention à la méthode... je réponds avec mes mots et je justifie avec le document (9points)


2 Le premier devoir d'un citoyen

Détail d'une coupe, V^e siècle av. J.-C., musée Vivenel, Compiègne.

« Je ne déshonorerai pas mes armes. Je n'abandonnerai pas mon compagnon dans la bataille. Je combattrai pour la défense de ce qui est prescrit par les dieux et par les hommes. Je ne transmettrai pas à mes enfants ma patrie diminuée, mais je la leur laisserai plus grande et plus forte que je ne l'aurai reçue. J'obéirai aux ordres des magistrats et aux lois établies par le peuple d'un commun accord. Si quelqu'un veut renverser ces lois ou leur désobéir, je ne le permettrai pas, je les défendrai, seul ou avec l'aide de tous. Je respecterai les cultes de mes ancêtres. »

Le serment des éphèbes, inscription athénienne du IV^e siècle avant J.-C.*

*Éphèbe : jeune Athénien de 18 ans, qui, durant 2 ans, accomplit son service militaire avant de devenir citoyen.



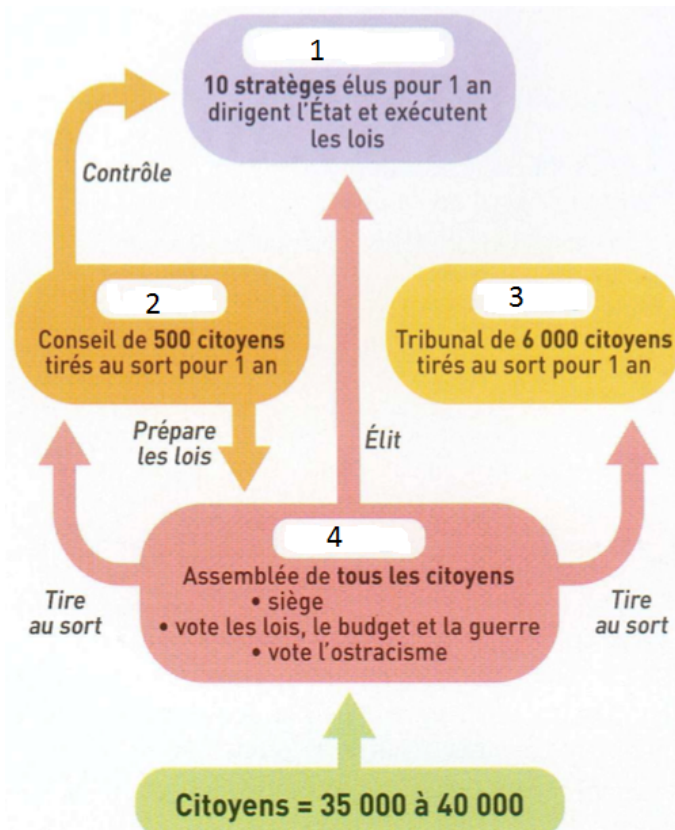
1. Quel est le premier devoir du citoyen athénien ? Justifier. 2pts

2. D'après la phrase « j'obéirai aux ordres des magistrats et aux lois établies par le peuple d'un commun accord » quel est le régime politique à Athènes au IV^e siècle ? 2pts

4. Présenter le document. 3pts

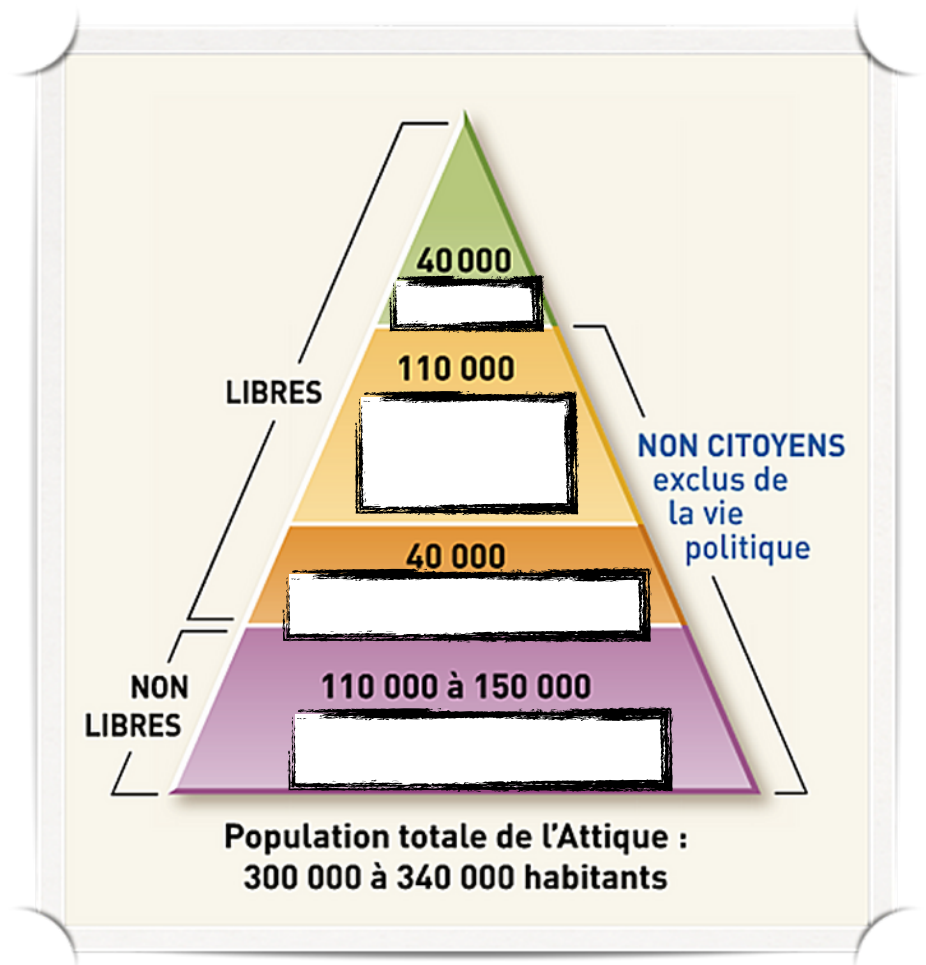
5. Ce document est-il une source historique ? Pourquoi ? 2pts

B/ Complète le tableau ci dessous à l'aide du schéma de la démocratie à Athènes (2 points)



1	
2	
3	
4	

C/ Complète la pyramide de la population athénienne (2 points)



D/ Reconnaître une source historique, raisonner et justifier une démarche : réponds aux questions suivantes à l'aide des documents et de tes connaissances (7 points)+2pts bonus

1

Les fouilles archéologiques sur les traces de Troie

Les différentes campagnes de fouilles ont mis au jour les restes superposés de plusieurs villes de Troie. Aucune ne correspond vraiment à la cité décrite par Homère, même si les traces d'un incendie dévastateur ont pu être relevées sur les ruines, dont les dates pourraient coïncider (entre 1300 et 1260). En revanche, Troie, datée entre 1800 et 1300, laisse imaginer une grande ville avec des fortifications impressionnantes. Homère n'était pas un historien, mais un poète. Il est admis aujourd'hui que ses récits sont composés d'éléments d'époques différentes, transmis par la tradition orale, qui fait la part belle à l'imaginaire. Et il n'en demeure pas moins que la chute de Troie a représenté dans l'esprit des Grecs un événement d'une telle importance qu'ils l'ont choisie comme point de départ de leur histoire.

L'Iliade et Troie entre mythe et histoire : BNF.fr

2

Extrait de l'Iliade, Homère VIII^{ème} siècle avant J.C

Et Hector, ayant regardé Pâris, lui dit ces paroles outrageantes : – Misérable ! la colère que tu as ressentie n'était point bonne. Nos troupes périssent autour de la ville, sous les hautes murailles. Grâce à toi, les clameurs de la guerre montent avec fureur autour de cette ville, et tu blâmerais toi-même celui que tu verrais s'éloigner de la rude bataille. Lève-toi donc, si tu ne veux voir la ville consumée bientôt par la flamme ardente.



3

Vase romain

BNF, Monnaies, Médailles et Antiques,
Inv. 56 – Berthouville 5

Sur ce vase antique à verser le vin sont représentés plusieurs épisodes de l'Iliade. On voit ici Achille debout sur son char, abrité sous son bouclier, traînant le corps d'Hector attaché par les pieds devant les murs de Troie. Sur la muraille, Priam et son épouse Hécube se lamentent. L'autre face du vase illustre la mort d'Achille, le talon percé d'une flèche.

1. Parmi les 3 documents, lesquels sont les sources historiques ? 2pts

2. Les fouilles archéologiques (doc.1) ont démontré l'existence d'un élément de la structure de la ville de Troie, que l'on retrouve également dans les documents 2 et 3. Quel est cet élément ? 2pts

3. Quelle phrase du document 1 montre que les grecs considèrent l'Iliade et l'Odyssée comme les récits de leur histoire commune ? **Surlignez la.** 1pt

4. Démontrez à l'aide des trois documents que les fouilles archéologiques permettent de vérifier scientifiquement les informations données par les sources historiques. 4pts (2pts bonus)

Barème et notation			
Exercice	Points	Commentaire	Compétence travaillée
A	/9		Présenter un document Justifier une réponse
B	/2		Apprendre son cours
C	/2		
D	/7 +2pts		Raisonner et justifier une démarche Reconnaitre une source historique
Soin et orthographe	+1 à -1		
Note finale	/20		